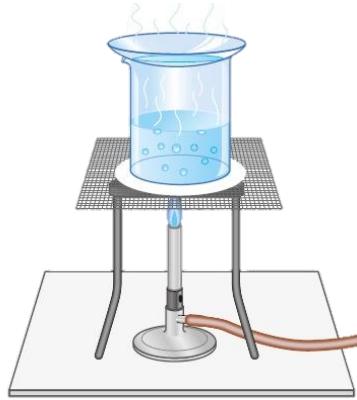


姓名：_____ ()

班別：1_____

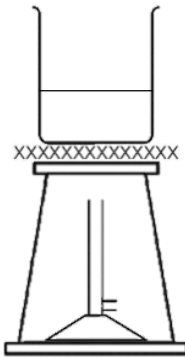
以下題目，請圈出正確答案。

1 下圖顯示一個實驗裝置。(1:00)

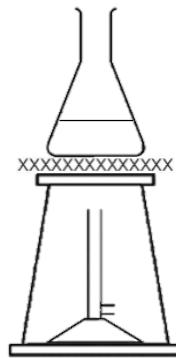


下列哪個是以上實驗裝置的切面圖？

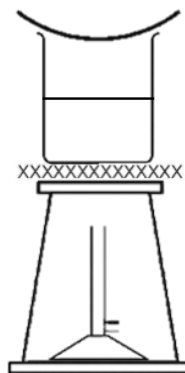
A



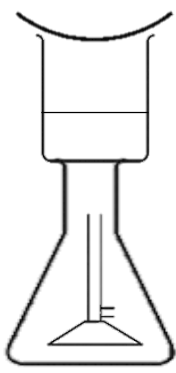
B



C



D



2 一種化學品容易起火，這化學品的容器上應貼有下列哪個危險警告標記？ (1:26)

A



B



C



D



3 志成想移取 10 mL 的水到瓶子裏，他應該使用哪個儀器？ (1:26)

A



B



C



D



4 下列哪項不是生火的必要條件？ (1:52)

- A 光
- B 燃料
- C 高溫
- D 氧

☐

5 下列哪些做法並不是依從實驗室安全守則的？ (2:06)

- (1) 未得老師批准，擅自動手做實驗。
- (2) 保持所有通道暢通無阻。
- (3) 在通風櫥內進行所有實驗。
- (4) 發生意外時，立刻離開實驗室。

- A 只有 (1)、(2) 和 (3)
- B 只有 (1)、(3) 和 (4)
- C 只有 (2)、(3) 和 (4)
- D (1)、(2)、(3) 和 (4)

☐